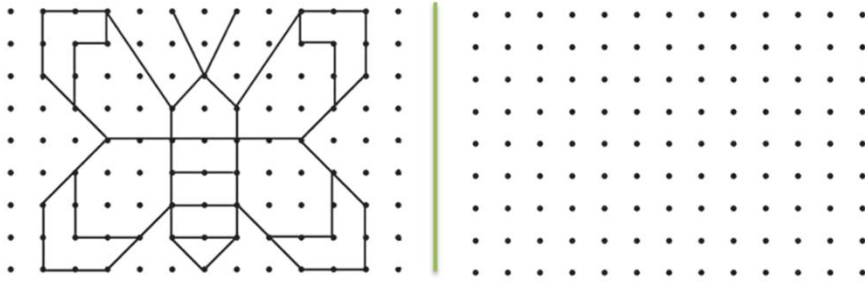
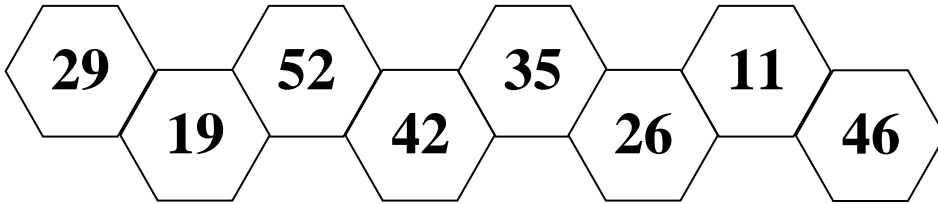


1. Повтори рисунок



2. Запиши числа в порядке уменьшения (начинай с наибольшего числа).
Найди число, которое делится на 6 и раскрась его.



Ответ: _____

3. Сколько денег стало?

было




_____ р.

заработали

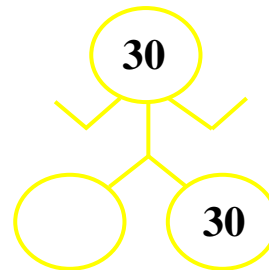
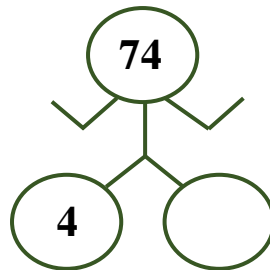
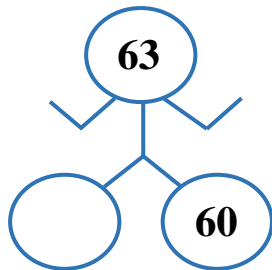
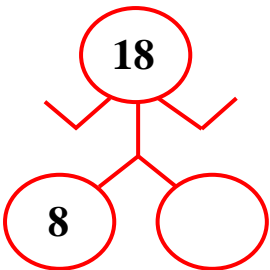


_____ р.

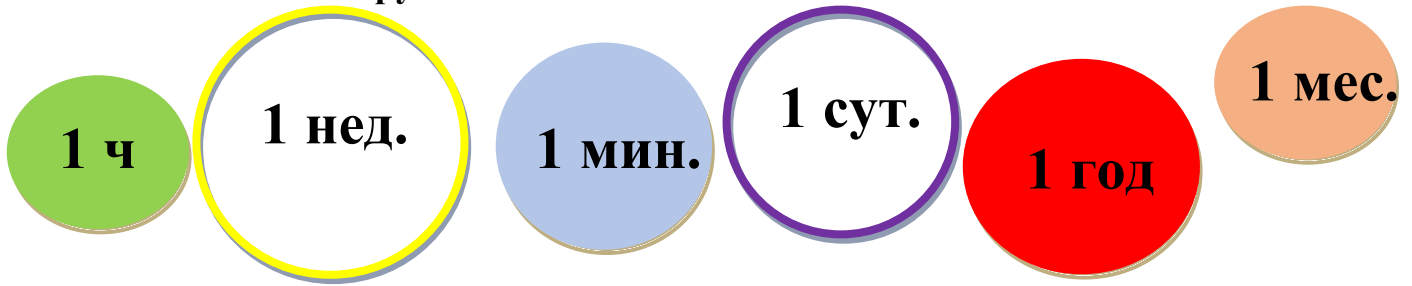
стало



4. «Умные роботы». Догадайся, каких чисел не хватает.

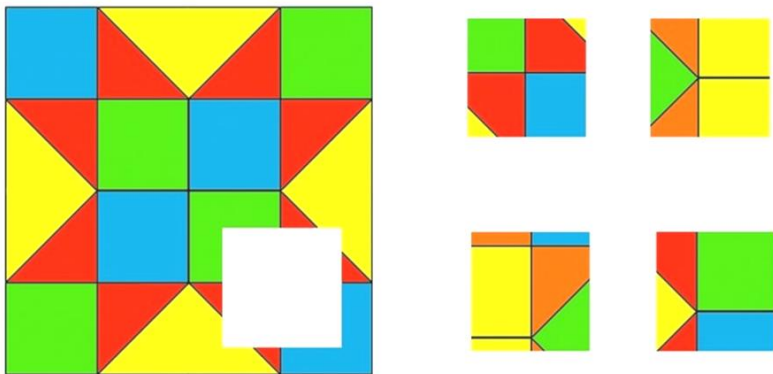


5. Запиши меры времени по порядку, начиная с самой маленькой меры. Сосчитай сколько окружностей и запиши.




Ответ: _____ Окружностей: _____

6. Подбери заплатку для коврика и соедини её стрелкой.

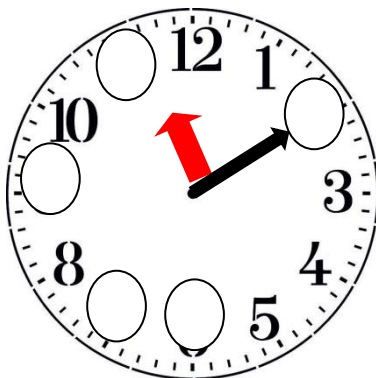


7. Напиши на циферблате недостающие числа. Какое время показывают часы?




... Ч ... МИН

... Ч ... МИН



... Ч ... МИН

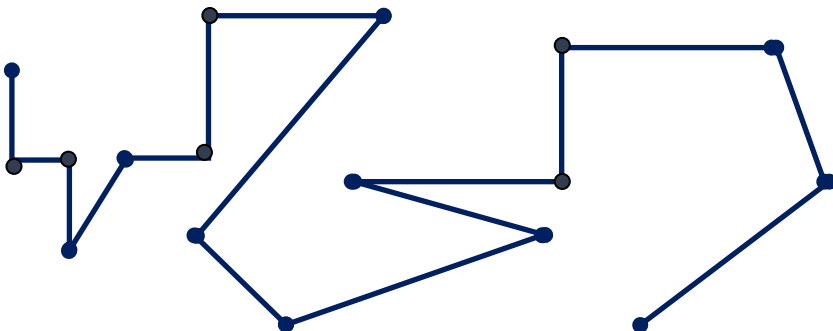
... Ч ... МИН



... Ч ... МИН

... Ч ... МИН

8. Рассмотрй ломаную линию. Отметь количество вершин и отрезков.



отрезков

вершин

9. Сколько килограммов апельсинов израсходовали на фабрике для того, чтобы сделать фруктовый сок?



25 кг



5 кг

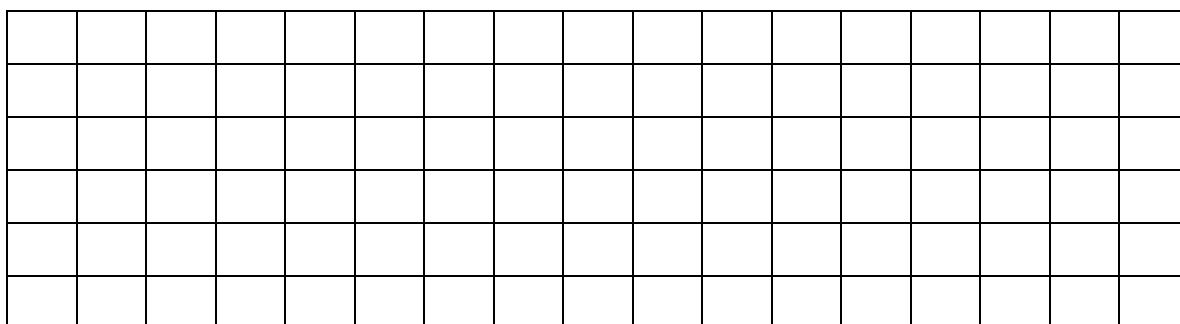


? кг



45кг

90 кг



Ответ: _____

10. Прочитай схему. Обведи гараж, в который должна заехать машина.

