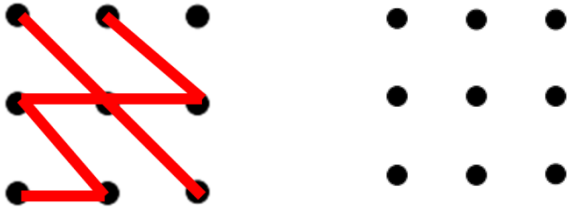


1. Повтори рисунок



2. Какие числа пропущены? Запиши

42						48				
----	--	--	--	--	--	----	--	--	--	--


	59							52		
--	----	--	--	--	--	--	--	----	--	--

3. Сколько денег в каждом кошельке? Сколько денег всего? Найди и запиши ответ.

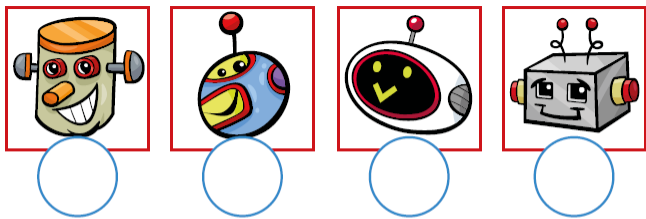


	+		=	
--	---	--	---	--


4. С двух яблонь собрали 16 яблок и разложили в ящики поровну. Сколько яблок в каждом ящике?



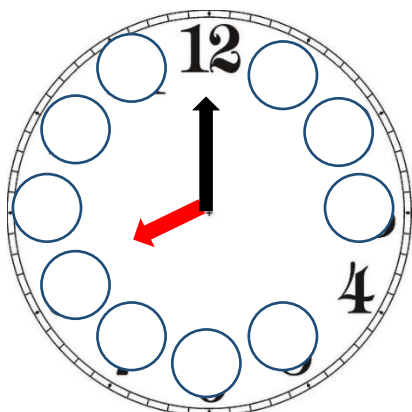
5. Сосчитай и напиши количество роботов.



6. Соедини пары. Сколько пар обуви получится? Запиши ответ.




7. Напиши на циферблате недостающие числа. Какое время показывают часы?



8. Подбери парус для каждой лодки.

Соедини стрелками.



9. Перед выступлением Катя одну неделю и три дня училась играть на скрипке вместе с педагогом. А потом ещё неделю она репетировала с родителями на даче. Сколько дней Катя готовилась к концерту?



О	т	в	е	т:	__				



10. Помоги велосипедисту добраться до финиша. Сколько флажков он проедет по пути? Сосчитай и запиши.

