


Олимпиадные задания по математике 3 класс ЗПР 2023

1. Сколько всего часов делятся день и ночь?

Ответ: _____


2. Отметь узоры с примерами, ответы которых можно разделить на 7.




А)



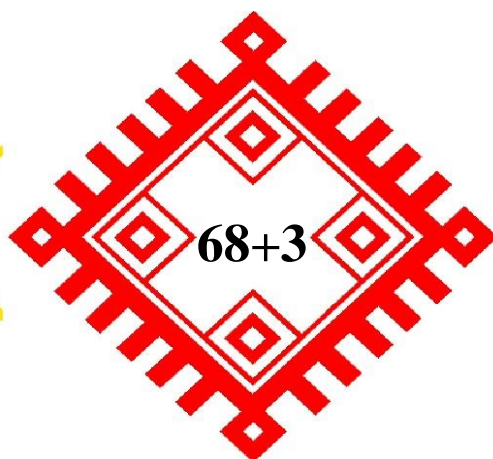
Б)



В)



Г)



Д)



Е)

3. Ваня живет выше Пети, но ниже Сени. На каком этаже трёхэтажного дома живёт каждый из них?



Ваня

Петя

Сеня

4. Назови цифру, которая спряталась за бычком.

$$16 + 7 = \text{бычок}$$

$$32 - \text{бычок} = \text{курица}$$

$$\text{бычок} + \text{курица} = \text{бычок}$$

$$\text{бычок} = \boxed{}$$

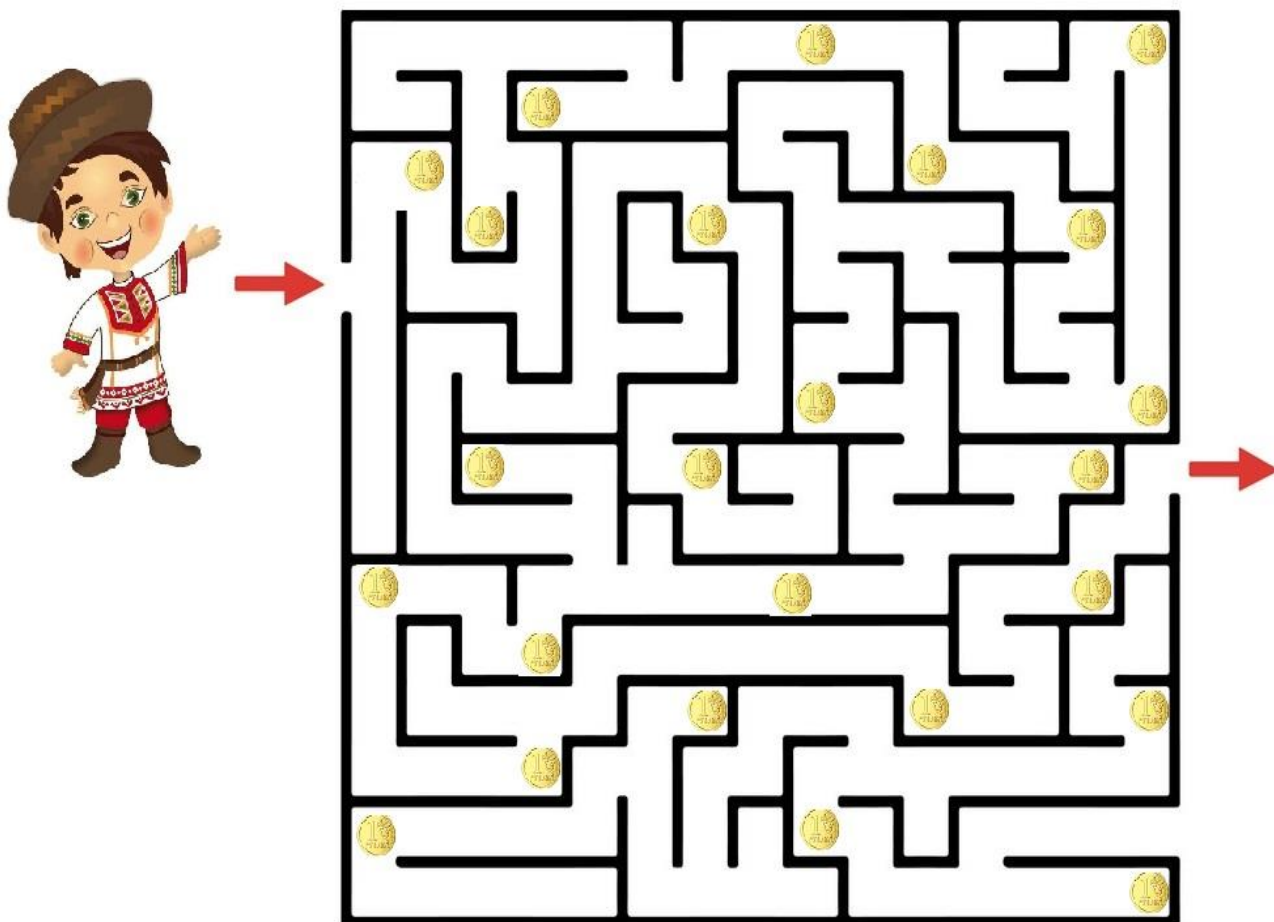
5. Заполни пустые клетки квадрата так, чтобы он стал магическим.

18		14
	15	
16		12

6. У Коли было 2 магнитика. Он пошел в гости к Ване и обменял каждый магнитик на 3 скрепыша. Затем у Пети обменял каждый скрепыш на 5 наклеек. Сколько наклеек стало у Коли?

- А) 10 Б) 30 В) 11 Г) 25

7. Пройди лабиринт и сосчитай количество монет, которые соберет чувашский мальчик Сентти.



8. Расставь номера действий в правильном порядке.

○ ○ ○ ○ ○
 $91 - (23 + 14) - 12 : 2 \cdot 5$

