

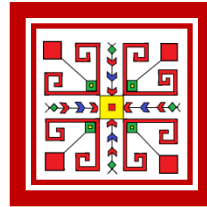
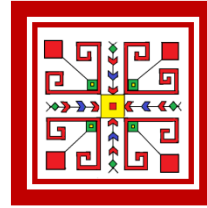
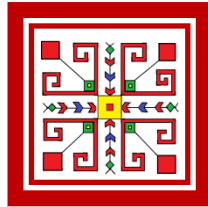
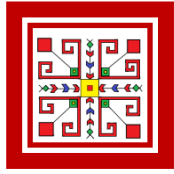
1. Аня и Ваня вышивали платки. Посчитай, сколько всего платков вышили Аня и Ваня вместе, и сколько – каждый из ребят. Ответы запиши в нужные поля.



Ваня  
вышивал так



Аня  
вышивала  
так




Ваня

Аня

Вместе

2. Реши ребус.



+



+



=



3. Сколько звездочек? Сосчитай и запиши. \_\_\_\_\_



Впиши в клеточки числа, которые меньше количества звездочек.










4. Какие числа пропущены? Запиши.

	9					4			
--	---	--	--	--	--	---	--	--	--

			9				13		
--	--	--	---	--	--	--	----	--	--



