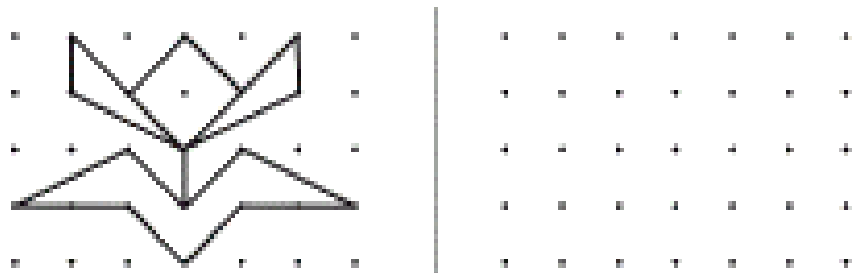
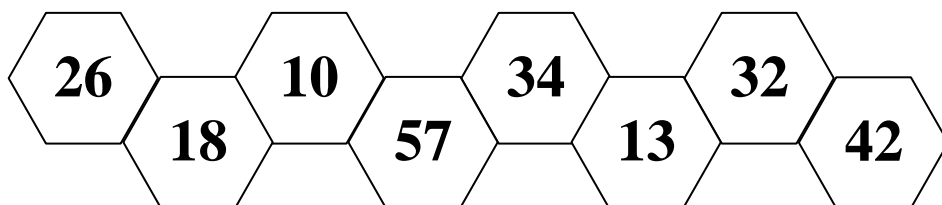


1. Повтори рисунок



2. Запиши числа в порядке уменьшения (начинай с наибольшего числа). Найди число, которое делится на 4 и раскрась его.




Ответ: _____

3. Сколько денег стало?

было

заработали

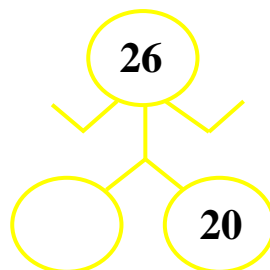
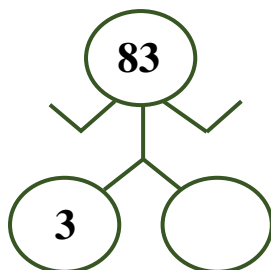
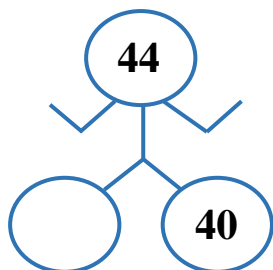
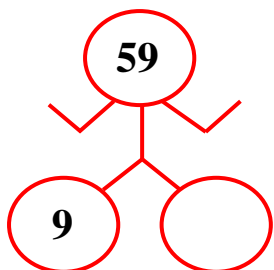
стало



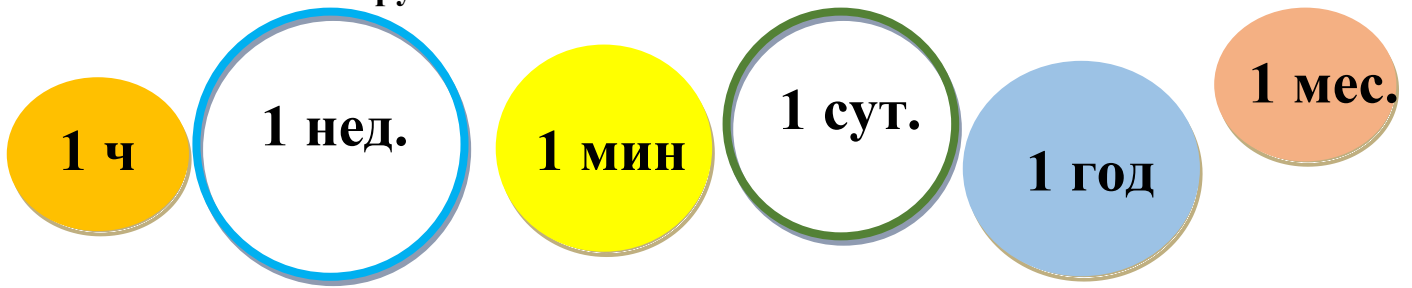
_____ р.

_____ р.

4. «Умные роботы». Догадайся, каких чисел не хватает.




5. Запиши меры времени по порядку, начиная с самой маленькой меры. Сосчитай сколько окружностей и запиши.




Ответ: _____ Окружностей: _____

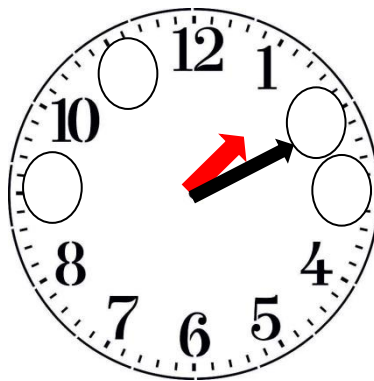
6. Подбери заплатку для коврика и соедини её стрелкой.



7. Напиши на циферблате недостающие числа. Какое время показывают часы?



... Ч ...МИН

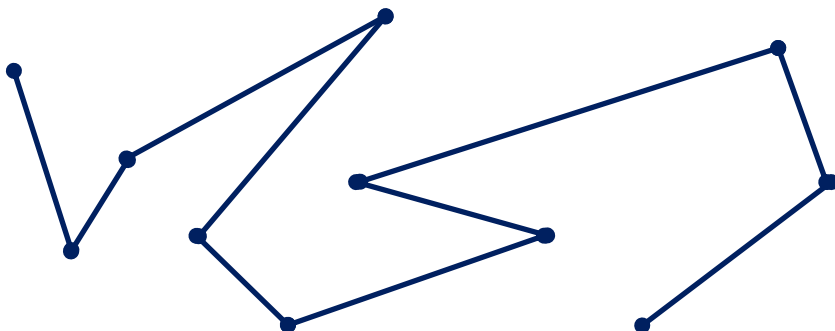


... Ч ...МИН



... Ч ...МИН

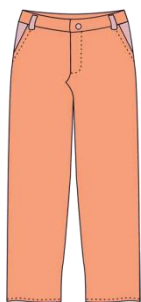
8. Рассмотрю ломаную линию. Отметь количество вершин и отрезков.



отрезков

вершин

9. Сколько метров ткани израсходовали на фабрике для того, чтобы сшить юбку?



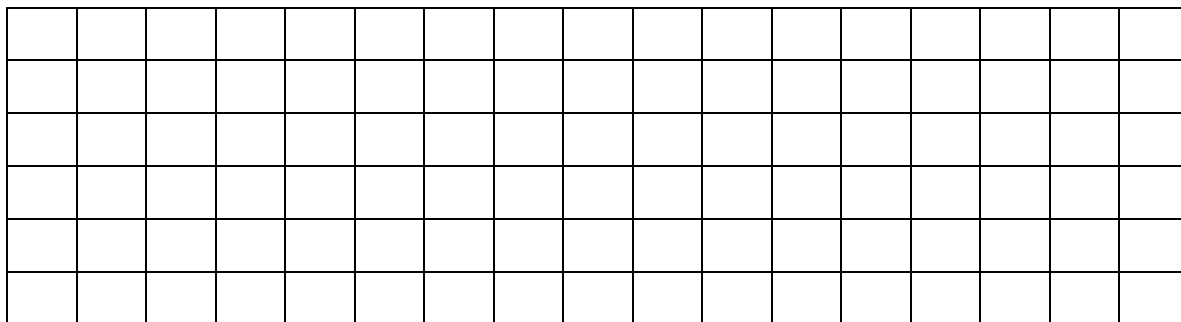
20 м

10 м

? м

35 м

80 м



10. Прочитай схему. Обведи конуру, в которой живет Шарик.

