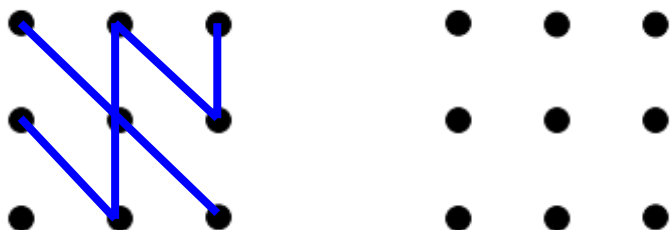


1. Повтори рисунок



2. Какие числа пропущены? Запиши

23						29				
----	--	--	--	--	--	----	--	--	--	--


50					45					40
----	--	--	--	--	----	--	--	--	--	----

3. Сколько денег в каждом кошельке? Сколько денег всего? Найди и запиши ответ.

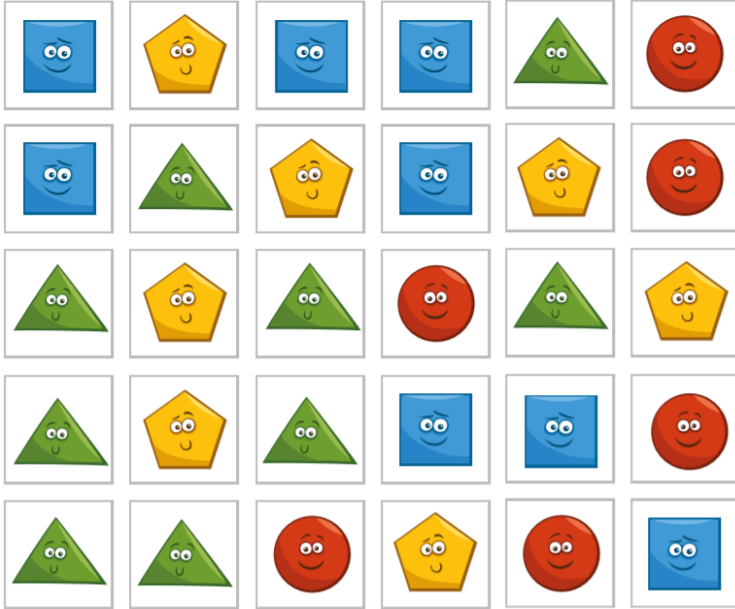
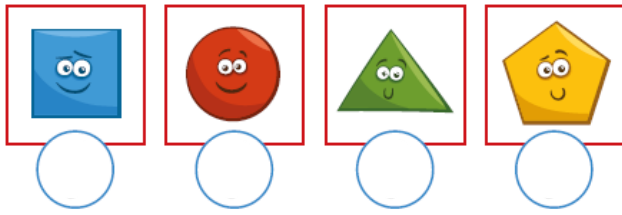


	+		=	
--	---	--	---	--


4. С двух грядок собрали 18 морковок и разложили в ящики поровну. Сколько морковок в каждом ящике?



5. Сосчитай и напиши количество фигур.



6. Соедини пары. Сколько пар обуви получится? Запиши ответ.



7. Напиши на циферблате недостающие числа. Какое время показывают часы?

