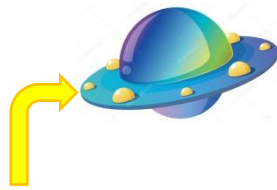


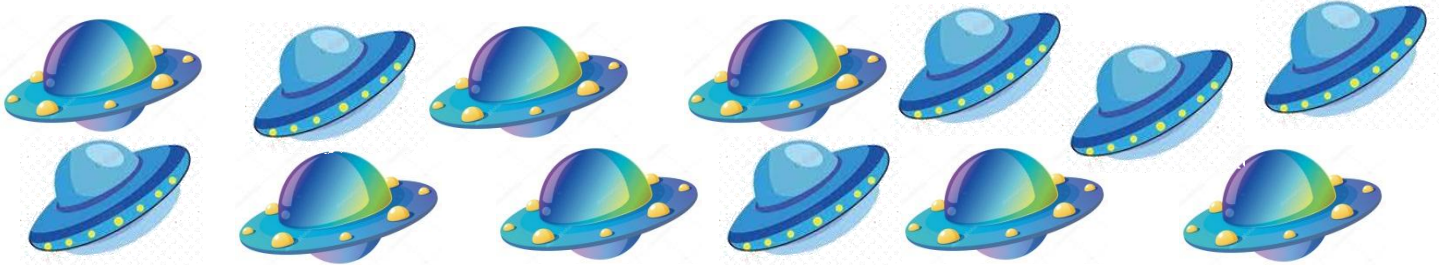
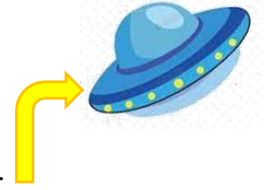
1. Аня и Толя раскрашивали летающие тарелки. Посчитай, сколько всего тарелок раскрасили Аня и Толя вместе, и сколько - каждый из ребят. Ответы запиши в нужные поля.



Толя раскрашивал так



Аня раскрашивала так



Толя

Аня

Вместе

2. Реши ребус.



3. Сколько звездочек? Сосчитай и запиши. _____



Впиши в клеточки числа, меньшие количества звездочек.




<input type="text"/>	<input type="text"/>	<input type="text"/>	<input type="text"/>	<input type="text"/>	<input type="text"/>	<input type="text"/>	<input type="text"/>	<input type="text"/>
----------------------	----------------------	----------------------	----------------------	----------------------	----------------------	----------------------	----------------------	----------------------

4. Какие числа пропущены? Запиши.

<input type="text"/>	<input type="text"/>	<input type="text"/>	7	<input type="text"/>	<input type="text"/>	<input type="text"/>	3	<input type="text"/>	<input type="text"/>
----------------------	----------------------	----------------------	---	----------------------	----------------------	----------------------	---	----------------------	----------------------

<input type="text"/>	<input type="text"/>	9	<input type="text"/>	<input type="text"/>	<input type="text"/>	13	<input type="text"/>	<input type="text"/>	<input type="text"/>
----------------------	----------------------	---	----------------------	----------------------	----------------------	----	----------------------	----------------------	----------------------

9. Какое время показывают часы?



10. На какой листок перепрыгнет лягушка, если будет двигаться по схеме? Отметь её путь. Посчитай, сколько цветов соберет она по пути.



Сколько цветов собрала лягушка по пути?

