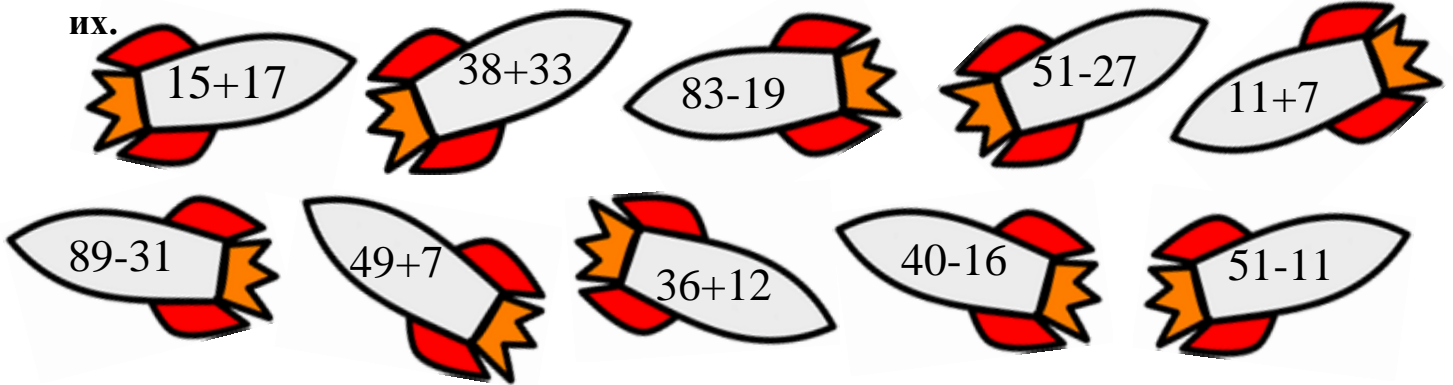



1. Вчера было воскресенье. Какой день будет завтра?

Ответ: \_\_\_\_\_

2. Сколько ракет с примерами, ответы которых можно разделить на 8? Обведи их.



3. Бабушка, дедушка и их внучка живут в одном подъезде трехэтажного дома, но на разных этажах. Известно, что бабушка проживает выше дедушки на один этаж, внучка не на третьем этаже. Кто на каком этаже живет?



Бабушка

Дедушка

Внучка

4. Назови цифру, которая спряталась за планетой.

$$9 + 4 = \text{alien}$$

$$21 - \text{alien} = \text{star}$$

$$\text{star} + \text{planet} = \text{alien}$$

$$\text{planet} = \boxed{\phantom{00}}$$

5. Заполни пустые клетки квадрата так, чтобы он стал магическим.

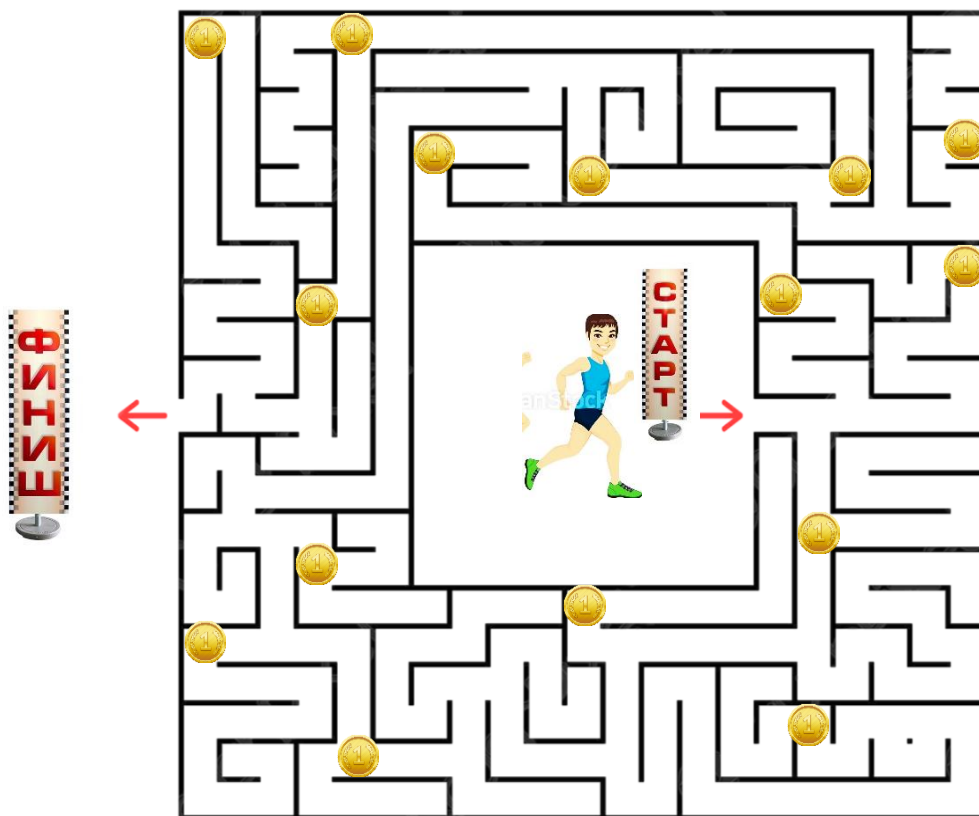
	6	
12	22	8

6. Маша испекла 2 пасхальных кулича. Она пошла в гости к бабушке и обменяла каждый кулич на 3 яйца. Затем у крестной обменяла каждое яйцо на 5 конфет. Сколько конфет стало у Маши?

- А) 10                      Б) 30  
В) 11                      Г) 25



7. Пройди лабиринт и сосчитай количество медалей.



8. Расставь номера действий в правильном порядке.

$$60 \circ : ( 3 \circ + 2 ) \circ \cdot 6 \circ - 3 \circ \cdot 5$$

