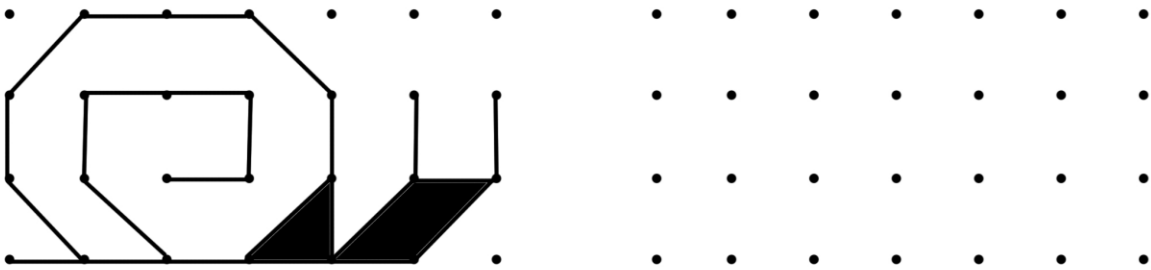
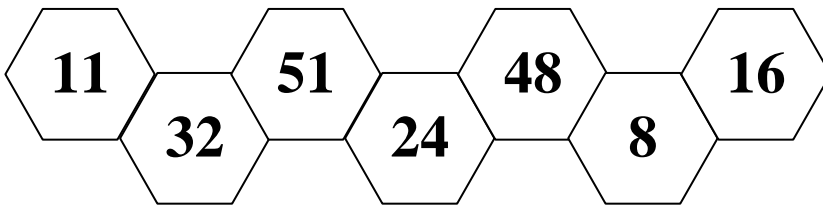


1. Повтори рисунок



2. Запиши числа в порядке уменьшения (начинай с наибольшего числа). Найди число, которое делится на 3 и раскрась его.




Ответ: _____

3. Сколько денег стало?

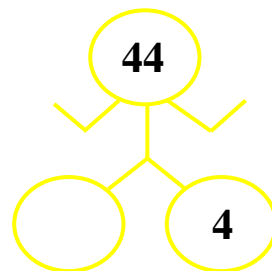
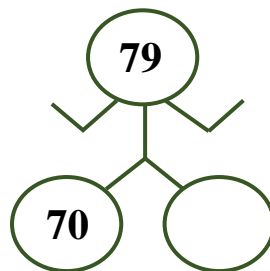
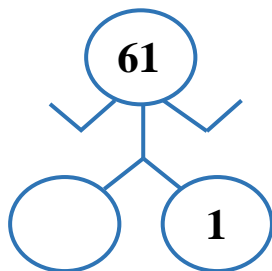
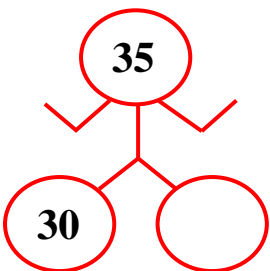
было

потратили

стало



4. «Умные роботы». Догадайся, каких чисел не хватает.



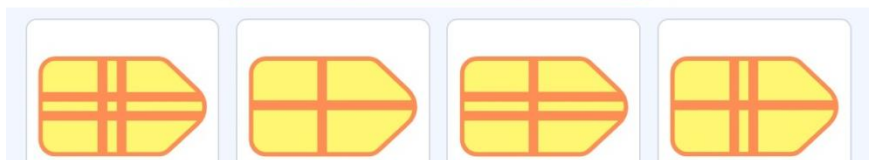
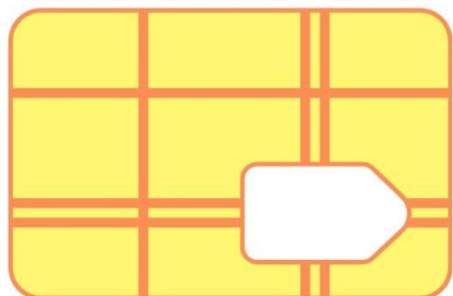
5. Запиши меры времени по порядку, начиная с самой маленькой меры. Сосчитай сколько окружностей и запиши.



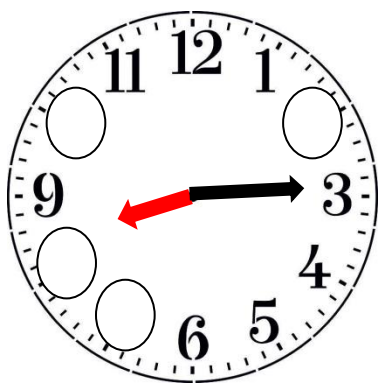
Ответ: _____

Окружностей: _____


6. Подбери заплатку для ковра и обведи её кружком




7. Напиши на циферблате недостающие числа. Какое время показывают часы?



... Ч ...МИН




... Ч ...МИН



... Ч ...МИН

8. Рассмотрю ломаную линию. Отметь количество вершин и отрезков.



отрезков

вершин

9. Сколько килограммов муки израсходовали на заводе для того, чтобы испечь хлеб?



30 кг



5 кг



? кг



10 кг

70 кг

10. Прочитай схему и найди в каком доме живет Лера. Обведи его кружком.

