


1. Повтори рисунок



2. Какие числа пропущены? Запиши

32						38			
----	--	--	--	--	--	----	--	--	--


50					44				40
----	--	--	--	--	----	--	--	--	----

3. Сколько денег в каждом кошельке? Сколько денег всего? Найди и запиши ответ.

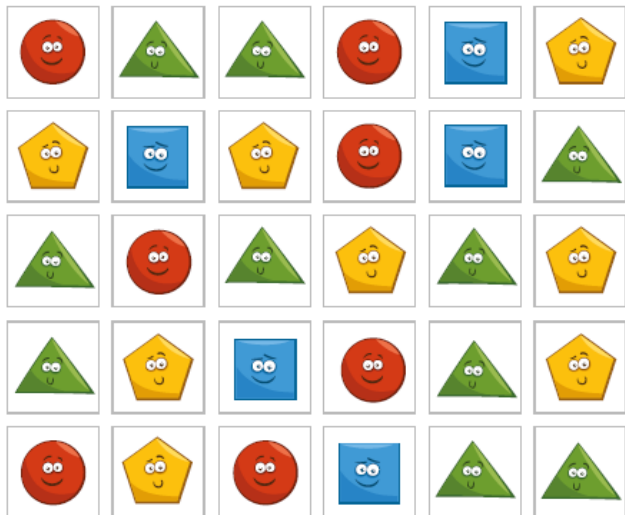
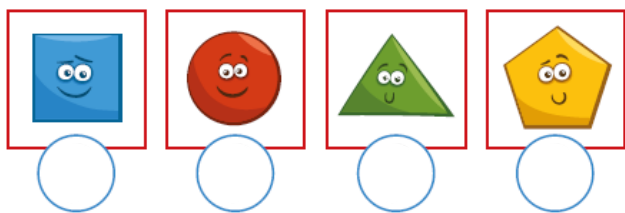


	+		=	
--	---	--	---	--


4. С двух яблонь собрали 16 яблок и положили в корзину поровну. Сколько яблок в каждой корзине?



5. Сосчитай и напиши количество фигур.



6. Сколько пар обуви получится? Запиши ответ



7. Напиши на циферблате недостающие числа. Какое время показывают часы?

