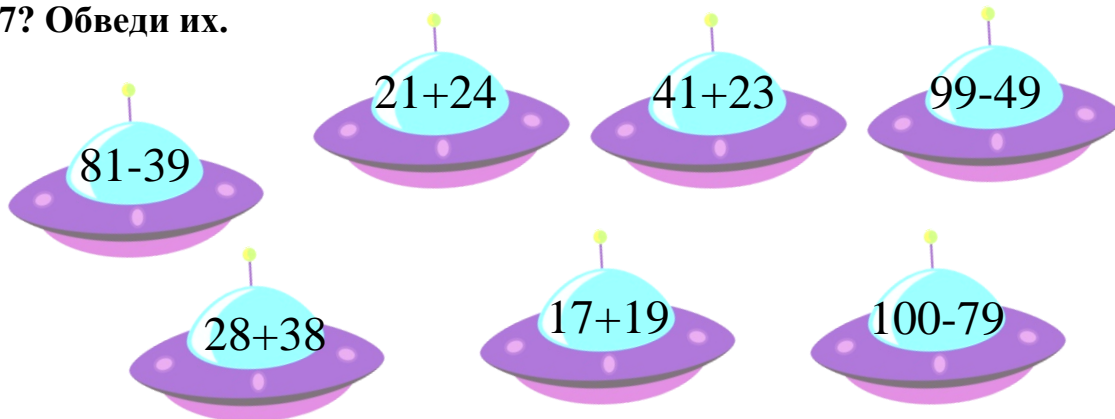


1. Две недели составляют половину месяца. Сколько дней в этом месяце?

Запиши название этого месяца.

Количество дней _____ Название месяца _____

2. Сколько летающих тарелок с примерами, ответы которых можно разделить на 7? Обведи их.




3. Витя, Саша и Андрей смастерили из бумаги кораблик, змея и аиста. Какую игрушку сделал каждый мальчик, если Витя не сделал кораблика и змея, а Саша не сделал кораблик?





Аист Кораблик
 Змея


4. Назови цифру, которую фея превратила в листик.





$$16+3=$$


$$20-$$


$$=$$


$$+$$


$$=$$




5. Заполни пустые клетки квадрата так, чтобы он стал магическим.

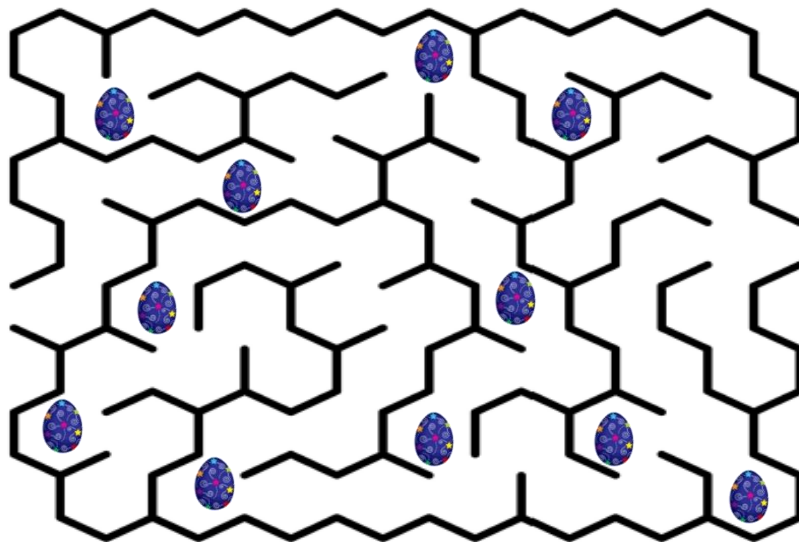
31		
	18	
29		24

6. Длина удава равна 40 шагам попугая, в одном шаге мартышки 5 шагов попугая. Скольким шагам мартышки равна длина удава?

- А) 45 Б) 8
В) 35 Г) 5



7. Пройди лабиринт и сосчитай, сколько пасхальных яиц по дороге раскрасил кролик.



8. Расставь номера действий в правильном порядке.

$$\begin{array}{ccccccc} \bigcirc & \bigcirc & \bigcirc & \bigcirc & \bigcirc & \bigcirc & \bigcirc \\ 55:5+18:18-(89-73)\cdot 20 \end{array}$$

9. Выполни вычисления. Ответ запиши арабскими цифрами.

$V+VIII=$

$XXVI-XIII=$

$XIII-IV=$

$XV+IV=$

$VII+VI=$

$IX-VI=$

10. Раскрась схему, на которой изображена комната с картинки.

