

1. Ваня и Таня красили ракеты. Посчитай, сколько всего ракет раскрасили Ваня и Таня вместе, а сколько каждый из ребят. Ответы запиши в нужные поля.



Ваня красил так →



Таня красила так →




Ваня


Таня

Вместе


2. Реши ребус.



+



+



=

3. Сколько бабочек? Сосчитай и запиши. _____

Напиши внизу числа меньше этого количества



4. Какие числа пропущены? Запиши

10					6				
		18						12	



5. Дополни до 9

9		
3		2

9		
4		1

9		
7		2

10. На какую планету прилетит ракета космонавта, если будет двигаться по схеме?



Сколько открытых сундуков
на картинке?

