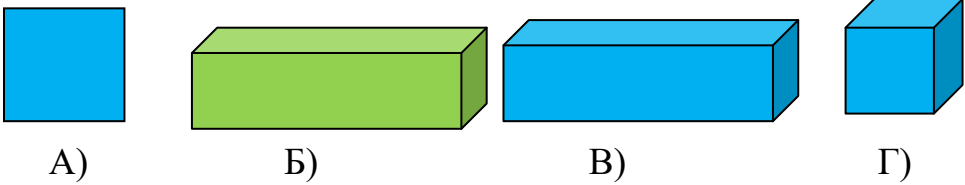


1. Гена и Петя играли в шахматы 2 часа. Сколько часов играл каждый мальчик?

- А) 6
- Б) 1
- В) 2
- Г) 4



2. Про какую фигуру можно сказать: «Она не плоская, не зеленая, равносторонняя»?



3. Определи время.




4. Расшифруй и запиши буквы в правильном порядке

| | | | | | |
|--------------------|--------------------|--------------------|--------------------|--------------------|--------------------|
| У | И | Н | Т | М | А |
| 53-19 | 30-4 | 15+17 | 21+18 | 34-25 | 100-38 |
| $\overline{\quad}$ | $\overline{\quad}$ | $\overline{\quad}$ | $\overline{\quad}$ | $\overline{\quad}$ | $\overline{\quad}$ |


Ответ (слово): _____

5. Сколько острых углов на чертеже? Сколько прямых углов? Тупых углов?



- Острых углов:
- Прямых углов:
- Тупых углов:

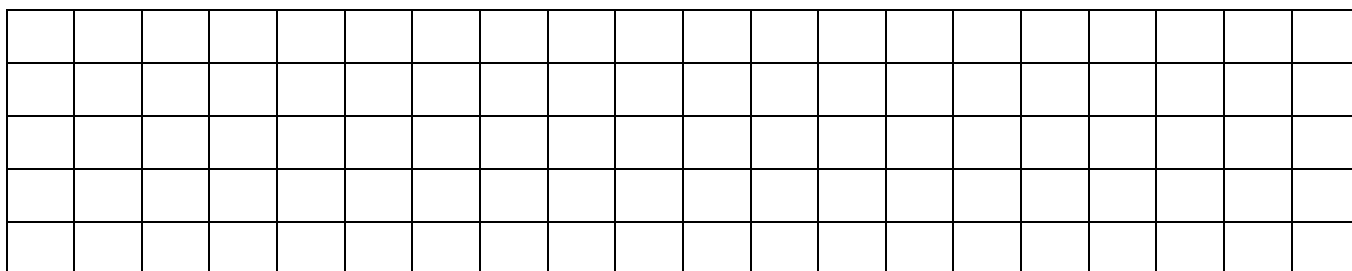
6. Начерти линией путь воздушного шара по небу. Используй стрелки в качестве схемы. Сосчитай, сколько облаков встретит по пути воздушный шар.



7. У Толи 4 пары варежек. Сколько варежек на левую руку?

- А) 4 Б) 1 В) 8 Г) 2

8. На столе лежали три линейки. Желтая была длиннее зеленой на 2 см. Синяя короче зеленой на 3 см. Найди длину желтой линейки, если длина синей – 15 см.



9. Заполни пустые клетки квадрата так, чтобы он стал магическим.

| | | |
|---|---|---|
| 4 | | 2 |
| | 5 | |
| 8 | | 6 |

10. Подбери правильный вид сверху. Обведи его.

