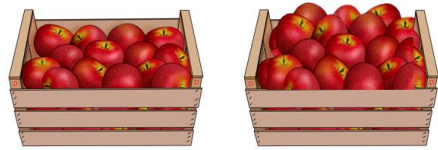
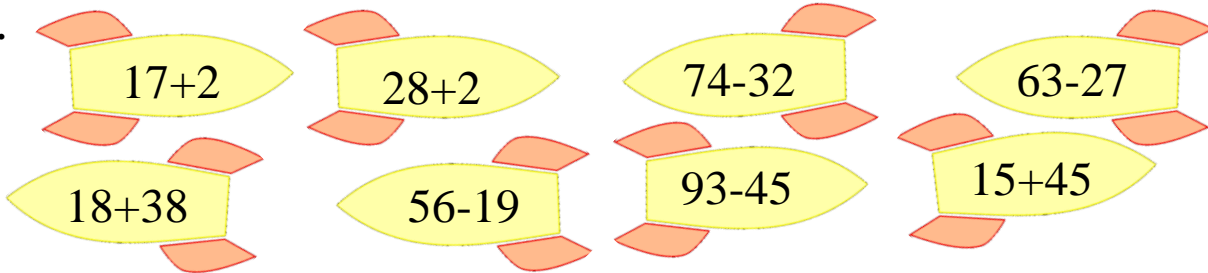


1. В двух ящиках поровну яблок. Из одного ящика в другой переложили 6 кг яблок. На сколько килограммов яблок стало больше во втором ящике, чем в первом?

- А) 3 Б) 6
В) 9 Г) 12



2. Сколько ракет с примерами, ответы которых можно разделить на 6? Обведи их.



3. В квартирах № 1,2,3 жили три котенка: белый, черный, рыжий. В квартирах №1 и №2 не жил чёрный котенок. Белый котенок не жил в квартире № 1. В какой квартире жил каждый котенок?



Белый Рыжий
Чёрный

4. Назови цифру, которую фокусник превратил в поросёнка.



$$3 + 2 = \text{птица}$$

$$9 - \text{птица} = \text{курица}$$

$$\text{курица} + \text{поросёнок} = \text{птица}$$



5. Заполни пустые клетки квадрата так, чтобы он стал магическим.


25		
	26	
29		27

6. У обезьянки было 9 кокосов. Каждые 3 кокоса она обменяла на 4 апельсина. Затем каждые 3 апельсина она обменяла на 4 банана. Сколько бананов стало у обезьянки?

- А) 8 Б) 20
В) 12 Г) 16



7. Пройди лабиринт и сосчитай количество пасхальных яиц.



8. Расставь номера действий в правильном порядке.

○ ○ ○ ○
24 + 2 · 5 - 12 : 4

9. Выполни вычисления. Ответ запиши арабскими цифрами.

$V+II = \quad VI+II =$

$V+I = \quad VIII-III =$

$IX+I = \quad X - I =$

$X - II = \quad IX + I =$

10. Раскрась схему, на которой изображена комната с картинки.

